



1, 2, 3...Sciences

Année académique 2018-2019

CORRIGÉ DE L'EXAMEN DE MATHÉMATIQUE DU 7 JANVIER 2019

QUESTIONNAIRE

Théorie

Théorie 1.

- (a) Quelles sont les limites des valeurs des fonctions exponentielle et logarithme aux extrémités de leurs domaines de définition ?
(b) Énoncer les propriétés fondamentales de ces fonctions vis-à-vis de la somme et du produit.

Théorie 2.

On donne une fonction f qui vérifie

$$\lim_{x \rightarrow -\infty} f(x) = 2.$$

Donner la définition mathématique (en « ε , η ») correspondant à cette notation ainsi qu'une interprétation graphique en faisant figurer sur celle-ci les différentes grandeurs introduites dans la définition.
Question analogue à celle de la Liste 9, I exercice 1.

Théorie 3.

- (a) On donne une fonction continue sur l'intervalle $[1, +\infty[$. Quand dit-on que celle-ci est intégrable sur cet intervalle ?
(b) Énoncer et démontrer la condition nécessaire et suffisante sur r ($r \in \mathbb{R}$) sous laquelle la fonction $x \mapsto x^r$ est intégrable sur $[1, +\infty[$ en utilisant la définition donnée au point précédent.

Exercices (70 points)

1. (a) Si x est un réel, que vaut la valeur absolue de $x^2 - |x^4|$? (Voir Liste 2, II exercice 2(b)).
(b) Que vaut l'expression suivante si on la simplifie au maximum.

$$4 \sin\left(\frac{11\pi}{24}\right) \cos\left(\frac{7\pi}{24}\right)$$

(Voir Liste 3, III exercice 4 (b))

- (c) Sachant que l'inconnue réelle x appartient à l'intervalle $\left[\frac{\pi}{2}, \frac{3\pi}{2}\right]$, résoudre l'équation suivante

$$\cos(3x) + \sin(3x) = \frac{\sqrt{6}}{2}.$$

(Voir Liste 3, III exercice 8 (c))

- (d) Après avoir justifié si elle est définie, simplifier au maximum l'expression suivante

$$\operatorname{arccotg}\left(\operatorname{cotg}\left(\frac{8\pi}{7}\right)\right).$$

(Voir Liste 8, II exercice 8)

- (e) Déterminer la forme trigonométrique du complexe suivant et le représenter dans le plan muni d'un repère orthonormé (« X = axe réel » et « Y = axe imaginaire »)

$$\frac{1}{2}(\sqrt{3} + i).$$

(Voir Liste 6, I exercice 2 (3))

2. Si elles existent, déterminer les limites suivantes.

$$(a) \lim_{t \rightarrow 1^-} (1-t) \ln(1-t^2) \qquad (b) \lim_{x \rightarrow -\infty} \left(\sqrt{x+4x^2} - \sqrt{4x^2+1} \right)$$

(Voir Liste 10, II exercice 1 (7) et Liste 9, I exercice 3 (5) qui a été résolu par l'assistant)

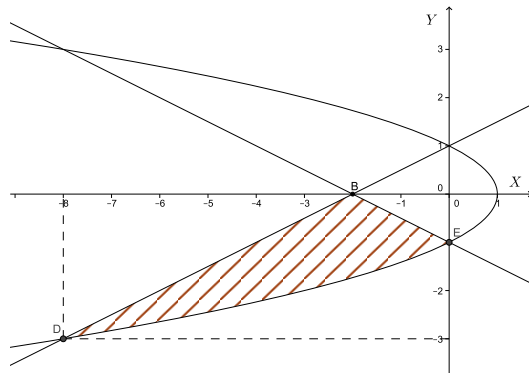
3. Si elles existent, déterminer la valeur des intégrales suivantes et simplifier votre réponse au maximum.

$$(a) \int_0^{+\infty} \frac{1}{x^2 - 2x + 2} dx$$

$$(b) \int_{-1}^{\sqrt{3}} \frac{1}{\sqrt{4-x^2}} dx$$

(Voir Liste 15, II (6) et Liste 13, I exercice 2 (12))

4. Décrire analytiquement l'ensemble A fermé hachuré suivant en commençant par l'ensemble de variation des ordonnées puis, à ordonnée fixée, l'ensemble de variation des abscisses. (L'une des courbes délimitant l'ensemble est une parabole et les autres sont des droites.)



(Voir Liste 5, exercice 9 (c))

5. (a) Montrer que la fonction $x \mapsto \cotg(x) + \frac{1}{\sin(x)}$, $x \in]0, \frac{\pi}{2}[$, vérifie l'équation différentielle

$$2Df + f^2 = -1.$$

(Voir Liste 16, I exercice 5)

- (b) Déterminer l'ensemble des solutions de l'équation différentielle

$$4D^2 f(x) - f(x) = \sin^2 x - \frac{1}{2}.$$

(Voir Liste 17, I exercice 1 (2))

6. Rédiger une résolution du problème suivant en justifiant le raisonnement.

Un terrain carré est bordé intérieurement par une allée de largeur constante dont la superficie vaut 464 m^2 . Lorsqu'on fait le tour du terrain, on remarque une différence de 32 m entre le parcours effectué au bord intérieur de l'allée et celui correspondant au bord extérieur. Quelle est la superficie totale du terrain ?

(Voir Liste 1, I exercice 6).

CORRIGE

Théorie

Théorie 1.

(a) Quelles sont les limites des valeurs des fonctions exponentielle et logarithme aux extrémités de leurs domaines de définition ?

(b) Enoncer les propriétés fondamentales de ces fonctions vis-à-vis de la somme et du produit.

Pour une réponse « type », voir cours (syllabus et cours enseigné).

Théorie 2.

On donne une fonction f qui vérifie

$$\lim_{x \rightarrow -\infty} f(x) = 2.$$

Donner la définition mathématique (en « ε , η ») correspondant à cette notation ainsi qu'une interprétation graphique en faisant figurer sur celle-ci les différentes grandeurs introduites dans la définition.

(Question analogue à celle de la Liste 9, I exercice 1).

Pour une réponse « type », voir cours (syllabus et cours enseigné).

Théorie 3.

(a) On donne une fonction continue sur l'intervalle $[1, +\infty[$. Quand dit-on que celle-ci est intégrable sur cet intervalle ?

(b) Énoncer et démontrer la condition nécessaire et suffisante sur r ($r \in \mathbb{R}$) sous laquelle la fonction $x \mapsto x^r$ est intégrable sur $[1, +\infty[$ en utilisant la définition donnée au point précédent.

Pour une réponse « type », voir cours (syllabus et cours enseigné).

Exercices

1. (a) Si x est un réel, que vaut la valeur absolue de $x^2 - |x^4|$?
(Voir Liste 2, II exercice 2(b))

Solution. Comme x est un réel, x^2 et x^4 sont des réels positifs. Dès lors,

$$|x^2 - |x^4|| = |x^2 - x^4| = x^2|1 - x^2|.$$

Une étude du signe de $1 - x^2$ permet donc de conclure ; on a

$$|x^2 - |x^4|| = \begin{cases} x^2(x^2 - 1) & \text{si } x \in]-\infty, -1] \cup [1, +\infty[\\ x^2(1 - x^2) & \text{si } x \in [-1, 1]. \end{cases}$$

- (b) Que vaut l'expression suivante si on la simplifie au maximum.

$$4 \sin\left(\frac{11\pi}{24}\right) \cos\left(\frac{7\pi}{24}\right)$$

(Voir Liste 3, III exercice 4 (b))

Solution. Puisque $2 \sin(a) \cos(b) = \sin(a + b) + \sin(a - b)$, $a, b \in \mathbb{R}$, on a

$$\begin{aligned} 4 \sin\left(\frac{11\pi}{24}\right) \cos\left(\frac{7\pi}{24}\right) &= 2 \left(\sin\left(\frac{11\pi}{24} + \frac{7\pi}{24}\right) + \sin\left(\frac{11\pi}{24} - \frac{7\pi}{24}\right) \right) \\ &= 2 \left(\sin\left(\frac{3\pi}{4}\right) + \sin\left(\frac{\pi}{6}\right) \right) = \sqrt{2} + 1 \end{aligned}$$

- (c) Sachant que l'inconnue réelle x appartient à l'intervalle $\left[\frac{\pi}{2}, \frac{3\pi}{2}\right]$, résoudre l'équation suivante

$$\cos(3x) + \sin(3x) = \frac{\sqrt{6}}{2}.$$

(Voir Liste 3, III exercice 8 (c))

Solution. L'équation est définie pour $x \in \mathbb{R}$.

Comme $\sin(x) = \cos(\pi/2 - x)$, que $\cos(a) + \cos(b) = 2 \cos((a+b)/2) \cos((a-b)/2)$, $a, b \in \mathbb{R}$ et que $\cos(\pi/4) = \sqrt{2}/2$, l'équation donnée est équivalente à

$$\cos(3x) + \cos(\pi/2 - 3x) = \frac{\sqrt{6}}{2} \Leftrightarrow 2 \cos(\pi/4) \cos(3x - \pi/4) = \frac{\sqrt{6}}{2} \Leftrightarrow \cos(3x - \pi/4) = \frac{\sqrt{3}}{2}$$

$$\Leftrightarrow \exists k \in \mathbb{Z} : 3x - \frac{\pi}{4} = \frac{\pi}{6} + 2k\pi \quad \text{ou} \quad 3x - \frac{\pi}{4} = -\frac{\pi}{6} + 2k\pi$$

$$\Leftrightarrow \exists k \in \mathbb{Z} : 3x = \frac{5\pi}{12} + 2k\pi \quad \text{ou} \quad 3x = \frac{\pi}{12} + 2k\pi$$

$$\Leftrightarrow \exists k \in \mathbb{Z} : x = \frac{5\pi}{36} + 2k\frac{\pi}{3} \quad \text{ou} \quad x = \frac{\pi}{36} + 2k\frac{\pi}{3}.$$

Dès lors, les solutions dans l'intervalle $\left[\frac{\pi}{2}, \frac{3\pi}{2}\right]$ sont $\frac{25\pi}{36}, \frac{29\pi}{36}, \frac{49\pi}{36}, \frac{53\pi}{36}$.

(d) Après avoir justifié si elle est définie, simplifier au maximum l'expression suivante

$$\operatorname{arctg} \left(\cotg \left(\frac{8\pi}{7} \right) \right).$$

(Voir Liste 8, II exercice 8)

Solution. Comme $\operatorname{dom}(\cotg) = \mathbb{R} \setminus \{k\pi : k \in \mathbb{R}\}$ et $\operatorname{im}(\cotg) = \mathbb{R} = \operatorname{dom}(\operatorname{arctg})$, l'expression $\operatorname{arctg}(\cotg(\frac{8\pi}{7}))$ est définie.

Dès lors, vu que $\cotg(8\pi/7) = \cotg(\pi/7)$, on a

$$\operatorname{arctg} \left(\cotg \left(\frac{8\pi}{7} \right) \right) = \operatorname{arctg} \left(\cotg \left(\frac{\pi}{7} \right) \right) = \frac{\pi}{7},$$

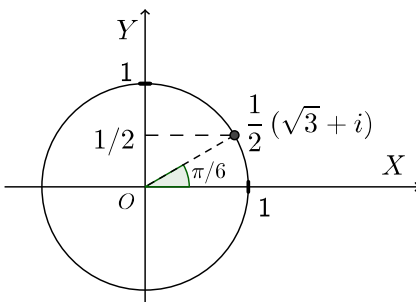
les fonctions arctg et \cotg étant inverses l'une de l'autre pour tout $x \in]0, \pi[$.

(e) Déterminer la forme trigonométrique du complexe suivant et le représenter dans le plan muni d'un repère orthonormé (« X = axe réel » et « Y = axe imaginaire »)

$$\frac{1}{2}(\sqrt{3} + i).$$

(Voir Liste 6, I exercice 2 (3))

Solution. Le module de ce nombre vaut $\sqrt{3/4 + 1/4} = 1$. Comme $\cos(\theta) = \sqrt{3}/2$ et $\sin(\theta) = 1/2$ avec $\theta \in [0, 2\pi[$, la forme trigonométrique du complexe donné est $\cos(\pi/6) + i \sin(\pi/6)$.



2. Si elles existent, déterminer les limites suivantes.

(a) $\lim_{t \rightarrow 1^-} (1-t) \ln(1-t^2)$

(b) $\lim_{x \rightarrow -\infty} (\sqrt{x+4x^2} - \sqrt{4x^2+1})$

(Voir Liste 10, II exercice 1 (7) et Liste 9, I exercice 3 (5) qui a été résolu par l'assistant)

Solution. (a) La fonction $t \mapsto (1-t)\ln(1-t^2)$ est définie sur $A = \{t \in \mathbb{R} : 1-t^2 > 0\} =]-1, 1[$. Puisque tout intervalle ouvert contenant 1 rencontre $A \cap]-\infty, 1[=]-1, 1[$, le calcul de la limite en 1^- peut être envisagé.

D'une part, $\lim_{t \rightarrow 1^-} (1-t) = 0^+$. D'autre part, comme $\lim_{t \rightarrow 1^-} (1-t^2) = 0^+$ et $\lim_{y \rightarrow 0^+} \ln(y) = -\infty$, on a

$\lim_{t \rightarrow 1^-} \ln(1-t^2) = -\infty$ vu le théorème de la limite des fonctions de fonction.

Pour lever l'indétermination " $0 \cdot \infty$ ", appliquons le théorème de l'Hospital à la fonction écrite sous la forme $\frac{\ln(1-t^2)}{(1-t)^{-1}}$. Pour cela, vérifions-en d'abord les hypothèses.

Dans $V =]-1, 1[$, considérons $f_1 : t \mapsto \ln(1-t^2)$ et $f_2 : t \mapsto (1-t)^{-1}$.

1) Ces deux fonctions sont dérivables dans V

2) La dérivée de f_2 vaut $(1-t)^{-2}$ et est non nulle dans V

3) On a $\lim_{t \rightarrow 1^-} \ln(1-t^2) = -\infty$ et $\lim_{t \rightarrow 1^-} (1-t)^{-1} = +\infty$

4) De plus, $\lim_{t \rightarrow 1^-} \frac{Df_1(t)}{Df_2(t)} = \lim_{t \rightarrow 1^-} \frac{\frac{-2t}{1-t^2}}{(1-t)^{-2}} = \lim_{t \rightarrow 1^-} \frac{-2t(1-t)^2}{1-t^2} = \lim_{t \rightarrow 1^-} \frac{-2t(1-t)}{1+t} = 0$.

Dès lors, par application du théorème de l'Hospital, la limite demandée vaut 0^- .

(b) La fonction $x \mapsto \sqrt{x+4x^2} - \sqrt{4x^2+1}$ est définie sur

$$A = \{x \in \mathbb{R} : x+4x^2 \geq 0 \text{ et } 4x^2+1 \geq 0\} =]-\infty, -1/4] \cup [0, +\infty[$$

ensemble non minoré; le calcul de la limite en $-\infty$ peut donc être envisagé.

D'une part, $\lim_{x \rightarrow -\infty} (x+4x^2) = +\infty$ et $\lim_{y \rightarrow +\infty} \sqrt{y} = +\infty$ donc $\lim_{x \rightarrow -\infty} \sqrt{x+4x^2} = +\infty$ vu le théorème de la limite des fonctions de fonction. D'autre part, par un raisonnement analogue, on a

$$\lim_{x \rightarrow -\infty} \sqrt{4x^2+1} = +\infty.$$

Pour lever l'indétermination " $\infty - \infty$ ", on multiplie numérateur et dénominateur par le binôme conjugué de $\sqrt{x+4x^2} - \sqrt{4x^2+1}$ et on a

$$\begin{aligned} \lim_{x \rightarrow -\infty} (\sqrt{x+4x^2} - \sqrt{4x^2+1}) &= \lim_{x \rightarrow -\infty} \frac{(\sqrt{x+4x^2} - \sqrt{4x^2+1})(\sqrt{x+4x^2} + \sqrt{4x^2+1})}{\sqrt{x+4x^2} + \sqrt{4x^2+1}} \\ &= \lim_{x \rightarrow -\infty} \frac{x-1}{\sqrt{x+4x^2} + \sqrt{4x^2+1}} \\ &= \lim_{x \rightarrow -\infty} \frac{x}{|2x| + |2x|} \\ &= \lim_{x \rightarrow -\infty} \frac{x}{-4x} \\ &= -\frac{1}{4}. \end{aligned}$$

3. Si elles existent, déterminer la valeur des intégrales suivantes et simplifier votre réponse au maximum.

$$(a) \int_0^{+\infty} \frac{1}{x^2 - 2x + 2} dx$$

$$(b) \int_{-1}^{\sqrt{3}} \frac{1}{\sqrt{4-x^2}} dx$$

(Voir Liste 15, II (6) et Liste 13, I exercice 2 (12))

Solution. (a) La fonction $f : x \mapsto \frac{1}{x^2-2x+2} = \frac{1}{(x-1)^2+1}$ est continue sur \mathbb{R} donc sur $[0; +\infty[$, ensemble non borné. Comme elle est positive sur cet ensemble, vérifions l'intégrabilité de la fonction

en $+\infty$ en utilisant la définition. Cette fonction est continue sur $[0; +\infty[$ donc sur les intervalles fermés bornés de la forme $[0, t]$ avec $t > 0$; elle y est donc intégrable.

De plus, pour tout $t > 0$, on a

$$\begin{aligned} \int_0^t \frac{1}{x^2 - 2x + 2} dx &= [\operatorname{arctg}(x - 1)]_0^t \\ &= \operatorname{arctg}(t - 1) - \operatorname{arctg}(-1) \\ &= \operatorname{arctg}(t - 1) + \frac{\pi}{4}. \end{aligned}$$

Par conséquent,

$$\lim_{t \rightarrow +\infty} \int_0^t \frac{1}{x^2 - 2x + 2} dx = \lim_{t \rightarrow +\infty} \left(\operatorname{arctg}(t - 1) + \frac{\pi}{4} \right) = \frac{\pi}{2} + \frac{\pi}{4} = \frac{3\pi}{4},$$

puisque $\lim_{t \rightarrow +\infty} (t - 1) = +\infty$ et $\lim_{y \rightarrow +\infty} \operatorname{arctg}(y) = \frac{\pi}{2}$, et donc $\lim_{t \rightarrow +\infty} \operatorname{arctg}(t - 1) = \frac{\pi}{2}$ (par le théorème de la limite des fonctions de fonction).

Comme cette limite existe et est finie et que la fonction f est positive sur $[0, +\infty[$, on conclut que la fonction f est intégrable sur $[0, +\infty[$ et que l'intégrale demandée vaut $\frac{3\pi}{4}$.

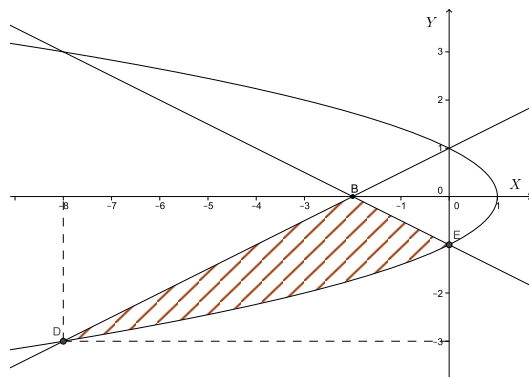
Remarque :

On aurait également pu prouver l'intégrabilité de la fonction par le critère en θ , avec $\theta = 2 > 1$.

(b) La fonction $f : x \mapsto \frac{1}{\sqrt{4-x^2}}$ est continue sur $] -2, 2[$; elle est donc continue sur l'intervalle fermé borné $[-1, \sqrt{3}]$ et intégrable sur cet ensemble. On a

$$\int_{-1}^{\sqrt{3}} \frac{1}{\sqrt{4-x^2}} dx = \left[\arcsin\left(\frac{x}{2}\right) \right]_{-1}^{\sqrt{3}} = \arcsin\left(\frac{\sqrt{3}}{2}\right) - \arcsin\left(-\frac{1}{2}\right) = \frac{\pi}{3} + \frac{\pi}{6} = \frac{\pi}{2}.$$

4. Décrire analytiquement l'ensemble A fermé hachuré suivant en commençant par l'ensemble de variation des ordonnées puis, à ordonnée fixée, l'ensemble de variation des abscisses. (L'une des courbes délimitant l'ensemble est une parabole et les autres sont des droites.)



(Voir Liste 5, exercice 9 (c))

Solution. Les points B, D et E ont respectivement pour coordonnées $(-2, 0)$, $(-8, -3)$ et $(0, -1)$. Les droites qui délimitent l'ensemble ont pour équation $DB : x - 2y + 2 = 0$, $BE : x + 2y + 2 = 0$, et la parabole a pour équation $1 - y^2 = x$.

Dès lors, l'ensemble fermé hachuré est décrit analytiquement par

$$\{(x, y) \in \mathbb{R}^2 : y \in [-3, -1], x \in [2y - 2, 1 - y^2]\} \cup \{(x, y) \in \mathbb{R}^2 : y \in [-1, 0], x \in [2y - 2, -2y - 2]\}.$$

5. (a) Montrer que la fonction $x \mapsto \cotg(x) + \frac{1}{\sin(x)}$, $x \in]0, \frac{\pi}{2}[$, vérifie l'équation différentielle

$$2Df + f^2 = -1.$$

(Voir Liste 16, I exercice 5)

Solution. La fonction donnée est dérivable sur $]0, \frac{\pi}{2}[$ et on a

$$D\left(\cotg(x) + \frac{1}{\sin(x)}\right) = \frac{-1}{\sin^2(x)} - \frac{\cos(x)}{\sin^2(x)}, \quad x \in]0, \frac{\pi}{2}[.$$

et donc

$$\begin{aligned} 2Df(x) + f^2(x) &= \frac{-2}{\sin^2(x)} - \frac{2\cos(x)}{\sin^2(x)} + \frac{\cos^2(x)}{\sin^2(x)} + \frac{2\cos(x)}{\sin^2(x)} + \frac{1}{\sin^2(x)} \\ &= \frac{-1 + \cos^2(x)}{\sin^2(x)} \\ &= -1 \end{aligned}$$

ce qui prouve que la fonction vérifie l'équation donnée.

(b) Déterminer l'ensemble des solutions de l'équation différentielle

$$4D^2f(x) - f(x) = \sin^2x - \frac{1}{2}.$$

(Voir Liste 17, I exercice 1 (2))

Solution. L'équation donnée est une équation différentielle linéaire à coefficients constants d'ordre 2 non homogène.

L'équation homogène associée est $4D^2f(x) - f(x) = 0$; le polynôme caractéristique est $z \mapsto 4z^2 - 1 = (2z + 1)(2z - 1)$ et ses zéros sont $-1/2$ et $1/2$. Il s'ensuit que les solutions de l'équation homogène sont les fonctions

$$f_H(x) = c_1 e^{-x/2} + c_2 e^{x/2}, \quad x \in \mathbb{R}$$

où c_1, c_2 sont des constantes complexes arbitraires.

Le second membre est une fonction continue sur \mathbb{R} ; on cherche donc une solution particulière définie sur \mathbb{R} . Comme

$$\sin^2(x) = \frac{1 - \cos(2x)}{2}$$

le second membre s'écrit aussi $-\frac{1}{2} \cos(2x)$.

Cherchons donc une solution particulière de l'équation dont le second membre est

$$-\frac{1}{2} \cos(2x) = -\frac{1}{2} \Re(e^{2ix}), \quad x \in \mathbb{R}.$$

Les coefficients de l'équation homogène étant réels, une solution particulière est donnée par la partie réelle d'une solution particulière de l'équation

$$4D^2f(x) - f(x) = -\frac{1}{2} e^{2ix}.$$

Comme le second membre est une fonction du type « exponentielle-polynôme » et que $2i$ n'est pas solution de l'équation caractéristique, on sait qu'une solution particulière est de la forme

$$f_P(x) = Ae^{2ix}, \quad x \in \mathbb{R}$$

où A est une constante à déterminer. On a successivement

$$Df_P(x) = 2iAe^{2ix} \quad \text{et} \quad D^2f_P(x) = -4Ae^{2ix},$$

donc

$$\begin{aligned} 4D^2f_P(x) - f_P(x) &= -\frac{1}{2}e^{2ix} \Leftrightarrow -16Ae^{2ix} - Ae^{2ix} = -\frac{1}{2}e^{2ix} \\ &\Leftrightarrow -17Ae^{2ix} = -\frac{1}{2}e^{2ix} \\ &\Leftrightarrow A = \frac{1}{34}. \end{aligned}$$

Une solution particulière de l'équation de départ est donc donnée par la fonction

$$\frac{1}{34}\Re e^{2ix} = \frac{1}{34}\cos(2x), \quad x \in \mathbb{R}.$$

Les solutions de l'équation donnée sont donc les fonctions

$$f(x) = c_1 e^{-x/2} + c_2 e^{x/2} + \frac{1}{34}\cos(2x), \quad x \in \mathbb{R}$$

où c_1 et c_2 sont des constantes complexes arbitraires.

6. Rédiger une résolution du problème suivant en justifiant le raisonnement.

Un terrain carré est bordé intérieurement par une allée de largeur constante dont la superficie vaut 464 m^2 . Lorsqu'on fait le tour du terrain, on remarque une différence de 32 m entre le parcours effectué au bord intérieur de l'allée et celui correspondant au bord extérieur. Quelle est la superficie totale du terrain ?

(Voir Liste 1, I exercice 6)

Solution. Soit c la longueur en mètres d'un côté du terrain carré; le côté du bord intérieur de l'allée mesure donc $\frac{1}{4}(4c - 32) = (c - 8)$ mètres. Dès lors, la superficie de l'allée vaut

$$c^2 - (c - 8)^2 = 464 \Leftrightarrow 16c - 64 = 464 \Leftrightarrow c - 4 = 29 \Leftrightarrow c = 33.$$

La superficie totale du terrain vaut donc $33^2 = 1089 \text{ m}^2$.